

BÀI THI XÉT CẤP HỌC BỔNG “CANON – CHẤP CẢNH NHÂN TÀI 2017”

Ngày..... tháng..... năm

Phần 1: Thông tin cá nhân

Họ và tên:..... (Viết chữ in hoa)

Ngày sinh:.....

Điện thoại liên hệ:.....

Phần 2: Câu hỏi IQ (5 điểm)

[Bài gồm 10 câu IQ, mỗi câu 0.2 điểm]

Câu 1:

Nhóm từ nào trong các nhóm sau khác với các nhóm còn lại?

CEFH

LNOQ

UWXZ

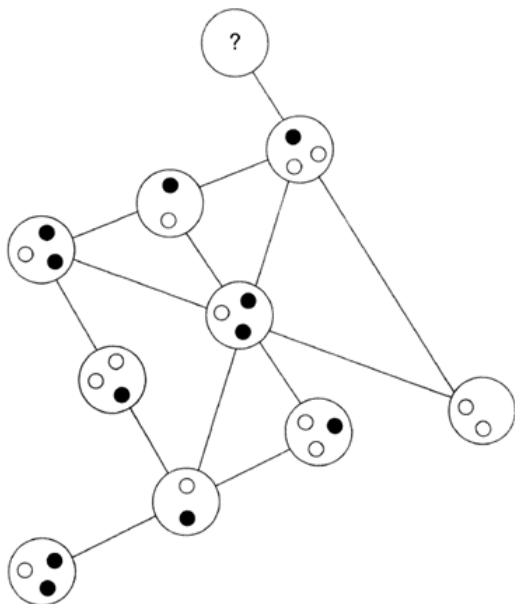
HJKN

PRSU

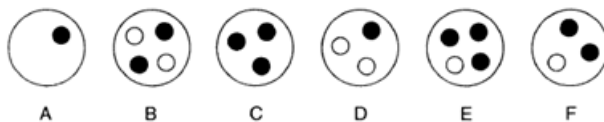
DFGI

Trả lời:

Câu 2:



Hình nào trong các hình sau có thể thay thế dấu ?



Trả lời:



BÀI THI XÉT CẤP HỌC BỔNG “CANON – CHẤP CẢNH NHÂN TÀI 2017”

Câu 3:

Đồng hồ của tôi hiển thị đúng giờ ở 12:00 trưa, nhưng sau đó pin đồng hồ bắt đầu yếu dần cho đến khi đồng hồ dừng chạy hẳn.

Biết rằng đồng hồ chạy chậm 14 phút mỗi giờ kể từ 12:00 trưa cho đến khi nó dừng chạy hoàn toàn.

Hiện giờ đồng hồ chỉ 15:50, nhưng nó đã ngừng chạy từ 5 tiếng trước.

Vậy bây giờ chính xác là mấy giờ?

Trả lời:

Câu 4:

$$\frac{\square}{\square\square} + \frac{\square}{\square\square} + \frac{\square}{\square\square} = 1$$

Hãy dùng các chữ số từ 1 đến 9 (chỉ dùng mỗi con số 1 lần duy nhất, không được lặp lại) để điền vào ô vuông trống trong phép tính ở trên. Mỗi ô chỉ được điền 1 ký tự số.

Trả lời:

Câu 5:

82	28	54
73	?	36
95	?	?

Điền vào dấu ? những số còn thiếu:

Trả lời:

.....

.....

.....

.....

BÀI THI XÉT CẤP HỌC BỔNG “CANON – CHẤP CẢNH NHÂN TÀI 2017”

Câu 6:

Những từ Tiếng Anh sau được sắp xếp theo quy luật:

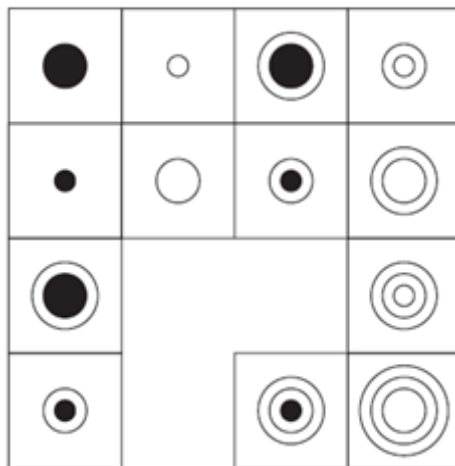
blank, mirage, glisten, portrait, ?

Trong các từ sau đây từ nào có thể thay thế dấu ?

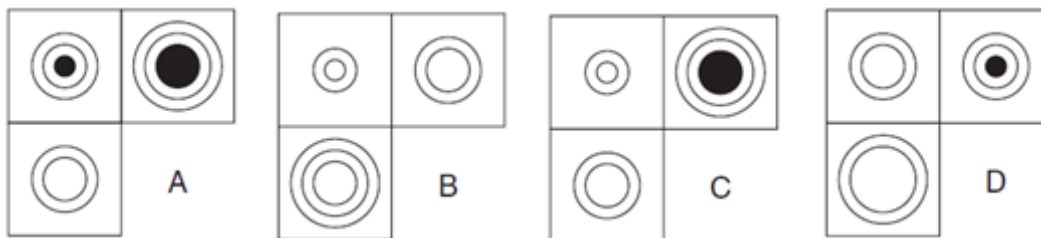
whispered, vacillate, kissogram, reticence, vacate, wisdom

Trả lời:

Câu 7:



Đoạn còn thiếu là:



Trả lời:

Câu 8:

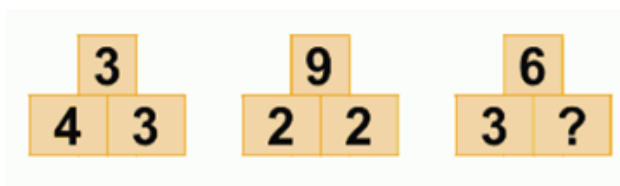
BÀI THI XÉT CẤP HỌC BỔNG “CANON – CHẤP CẢNH NHÂN TÀI 2017”

Trong bể cá của tôi có 15 con cá đốm. Con cá đực mỗi con có 81 đốm, con cá cái mỗi con có 27 đốm. Nếu tôi lấy ra khỏi bể $\frac{2}{3}$ số cá đực thì tổng số đốm trên số cá còn lại trong bể của tôi là bao nhiêu?



Trả lời:

Câu 9:

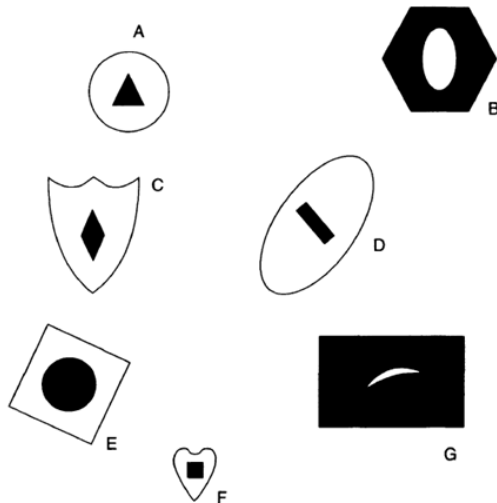


Số nào có thể thay thế dấu ? trong ô vuông ở trên?

Trả lời:

Câu 10:

Hình nào khác các hình còn lại?



Trả lời:



BÀI THI XÉT CẤP HỌC BỔNG “CANON – CHẤP CẢNH NHÂN TÀI 2017”

Phần 3: Bài luận (5 điểm)

[Bài gồm 2 câu, mỗi câu 2.5 điểm]

Câu 1: Bạn sẽ là ai trong 10 năm tới? Tại sao? Bạn làm thế nào để đạt được ước mơ trên?

.....

.....

.....

.....

.....

.....

.....

.....

.....

.....

.....

.....

.....

.....

.....

.....

.....

.....

.....

.....

.....

.....

.....



BÀI THI XÉT CẤP HỌC BỔNG “CANON – CHẤP CẢNH NHÂN TÀI 2017”

Câu 2: Nếu bạn là lãnh đạo cấp cao của Việt Nam trong tương lai, bạn sẽ làm gì?

.....

.....

.....

.....

.....

.....

.....

.....

.....

.....

.....

.....

.....

.....

.....

.....

.....

.....

.....

.....

Lưu ý:

- Học sinh, sinh viên viết tự luận ngắn gọn, súc tích và không vượt quá giới hạn dung lượng Ban tổ chức đưa ra: ***tối đa 150 từ cho mỗi câu luận.***

Hết